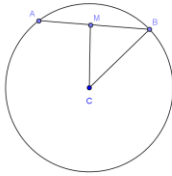
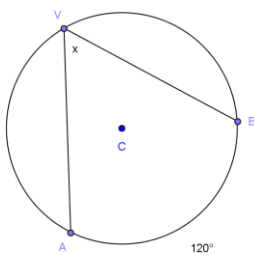
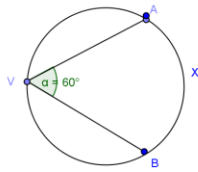


Atividades 2º Ano Matemática

1) Na Figura, a circunferência de centro C a tem raio 15cm, M é ponto médio da corda AB e CM mede 12cm. Calcule a medida da corda AB.



2) Determine a medida x, em grau, em cada uma das circunferências:



3) Por motivo do irrigador de uma horta ser circular, o horticultor pretende cercá-la em volta com uma tela, sabendo que o raio da horta mede 20m. Determine quantos metros de tela serão necessários para cercá-la. Sendo $\pi \approx 3,14$.